


۱. با استفاده از کدام یک از قسمت‌های شماره‌گذاری شده در شکل مقابل می‌توان ابعاد Placeholder را تغییر داد؟


- ۱ (۱)
۲ (۲)
۳ (۳)

۴ (گزینه ۲ و ۳ صحیح است.



۲. هنگام نمایش اسلاید مقابل برای اجرا شدن افکت مربوط به کلید D به چند کلیک نیاز است؟

- ۱ (دو کلیک)
۲ (سه کلیک)
۳ (چهار کلیک)
۴ (پنج کلیک)



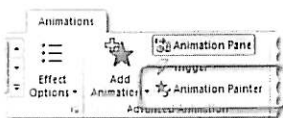
۳. در یک اسلاید چهار شکل وجود دارد که بر روی آنها عبارات A, B, C و D نوشته شده است. کدامیک از گزینه‌های زیر در رابطه با اجرای افکت شکل‌های B و C صحیح است؟

۱ (افکت این دو شکل به صورت هم زمان، و با اولین کلیک پس از خاتمه افکت شکل A اجرا می‌شود.

۲ (افکت این دو شکل به صورت هم زمان، و به صورت خودکار پس از خاتمه افکت مربوط به شکل A اجرا می‌شود.

۳ (افکت شکل C به صورت خودکار و پس از خاتمه افکت شکل B اجرا خواهد شد.

۴ (پس از اجرای افکت مربوط به شکل B با اولین کلیک، افکت مربوط به شکل C اجرا می‌شود.

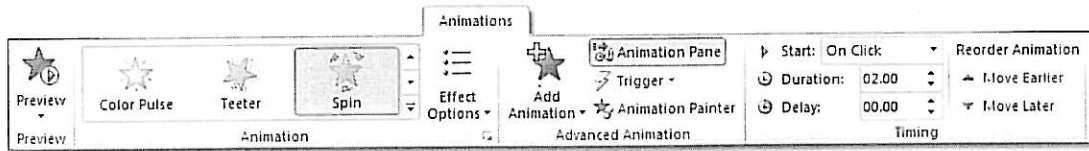


۴. در برگه Animation، دستوری به نام Animation Painter وجود دارد.

کدام یک از گزینه‌های زیر معرف عملکرد این دستور است؟

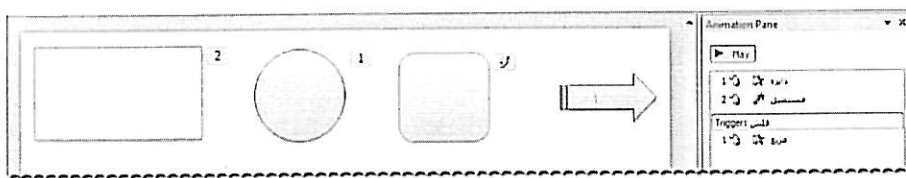
- ۱ (با استفاده از این دستور می‌توان قالب‌بندی یک عنصر مانند رنگ، سایه، کادر و ... را بر روی یک عنصر دیگر اعمال نمود.
۲ (این دستور می‌تواند افکت‌های موجود بر روی یک عنصر را بر روی یک یا چند عنصر دیگر کپی نماید.
۳ (این دستور قالب‌بندی یک اسلاید را بر روی یک اسلاید دیگر کپی می‌نماید.
۴ (تمام موارد فوق صحیح است.

۵. بر روی یک عنصر افکتی قرار داده‌ایم و می‌خواهیم اجرای آن افکت را به کلیک کردن بر روی یک عنصر دیگر وابسته نماییم. از طریق کدام یک از گزینه‌های موجود در برگه Animations می‌توان این عمل را انجام داد؟



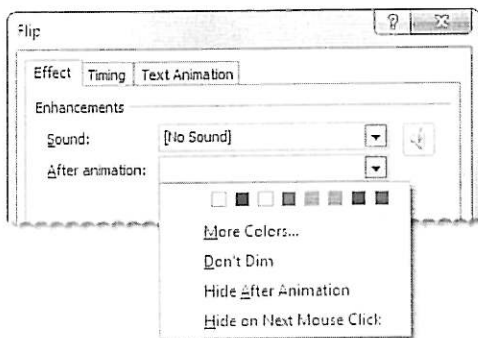
Animation Painter (۴ Add Animation (۳ Trigger (۲ Effect Options (۱

۶. در شکل زیر کلیک کردن بر روی فلش باعث اجرای افکت کدام یک از عناصر دیگر خواهد شد؟

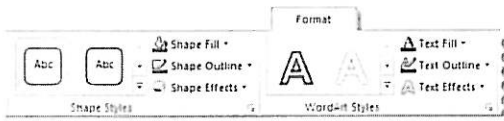


- (۱ شکل مستطیل
- (۲ شکل مربع
- (۳ اشکال دایره و مستطیل
- (۴ هیچکدام

۷. بر روی یک عنصر افکت Flip را جهت ظاهر شدن آن قرار داده‌ایم. انتخاب یک رنگ از منوی باز شونده After animation در تصویر زیر باعث انجام چه عملی خواهد شد؟



- (۱ با انتخاب رنگ از قسمت نشان داده شده، رنگ عنصر مورد نظر بلافاصله تغییر خواهد کرد.
- (۲ پس از اجرای افکت Flip، رنگ عنصر مورد نظر تغییر می‌کند.
- (۳ اگر عنصر در یک Place Holder قرار داشته باشد، رنگ متن و پس‌زمینه‌ی Placeholder بلافاصله به رنگ انتخاب شده تغییر خواهد کرد.
- (۴ هیچکدام



۱. با استفاده از کدام یک از گزینه‌های موجود در برگه Format می‌توان در زیر Placeholder یک انعکاس یا Reflection ایجاد نمود؟

Text Fill (۴

Shape Effects (۳

Shape Outline (۲

Shape Fill (۱




۲. در یک اسلاید تنها یک عنصر مطابق شکل مقابل وجود دارد که بر روی آن یک افکت قرار داده‌ایم. با توجه به شکل، نحوه شروع اجرای این افکت کدام یک از حالات زیر است؟

گزینه ۱ و ۲ صحیح است. (۴

After Previous (۳

With Previous (۲

On Click (۱



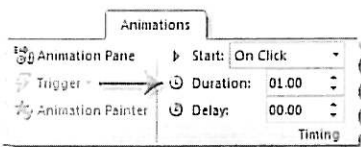
۳. در یک اسلاید چهار شکل وجود دارد که بر روی آنها عبارات A, B, C و D نوشته شده است. کدامیک از گزینه‌های زیر در رابطه با اجرای افکت شکل‌های B و C صحیح است؟

(۱ افکت این دو شکل به صورت هم زمان، و با اولین کلیک پس از خاتمه افکت شکل A اجرا می‌شود.

(۲ افکت این دو شکل به صورت هم زمان، و به صورت خودکار پس از خاتمه افکت مربوط به شکل A اجرا می‌شود.

(۳ افکت شکل C به صورت خودکار و پس از خاتمه افکت شکل B اجرا خواهد شد.

(۴ پس از اجرای افکت مربوط به شکل B با اولین کلیک، افکت مربوط به شکل C اجرا می‌شود.



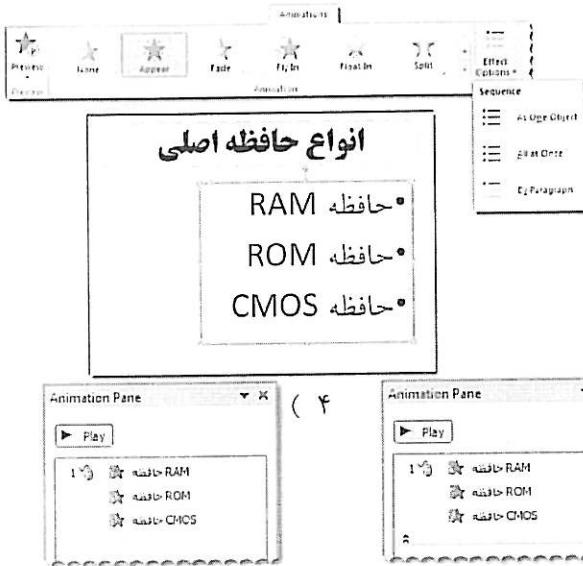
۴. مطابق شکل مقابل مقدار Duration برای یک افکت عدد ۱ تعیین شده است. در صورتی که این عدد را به ۲ تغییر دهیم، چه تغییری در اجرای افکت رخ خواهد داد؟

(۱ افکت بجای یک مرتبه، دو مرتبه اجرا می‌شود.

(۲ اجرای افکت بجای یک ثانیه، دو ثانیه طول می‌کشد.

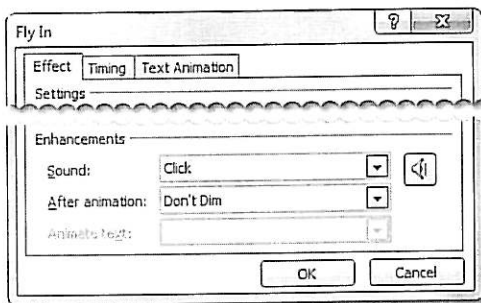
(۳ افکت با دو ثانیه تأخیر اجرا می‌شود.

(۴ تمام موارد فوق صحیح است.



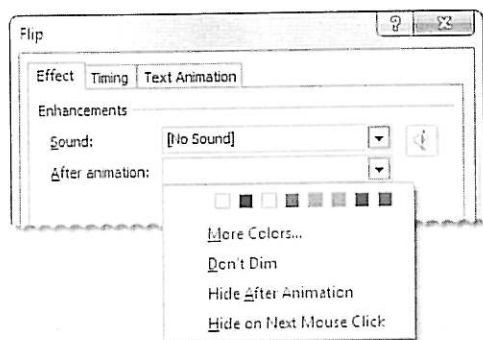
۵. در یک اسلاید یک Body Placeholder حاوی سه پاراگراف قرار دارد. بر روی این Placeholder، یک افکت برای ظاهر شدن آن قرار داده و گزینهی By Paragraph را برای آن از Effect Optioe انتخاب نموده‌ایم. پس از انجام این عملیات، Animation Pane به چه صورتی مشاهده خواهد شد؟

۶. تصویر زیر خصوصیات افکت Fly In که بر روی یک عنصر قرار داده شده است را نشان می‌دهد. کدامیک از گزینه‌های زیر در رابطه با خصوصیت صدا، در زمان اجرای این افکت صحیح است؟



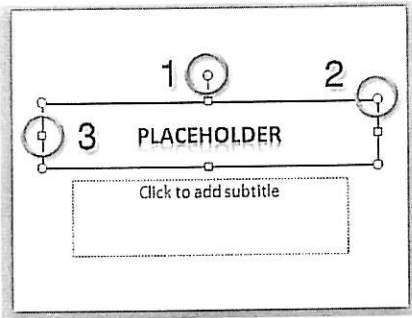
- (۱) به اجرای این افکت صدایی اختصاص داده نشده است.
- (۲) هم زمان با اجرای این افکت، صدای Click پخش می‌شود.
- (۳) صدای اختصاص داده شده به این عنصر تنها با کلیک کردن بر روی آن شنیده می‌شود.
- (۴) تنها در صورت کلیک کردن بر روی این عنصر و با خاتمه افکت FlyIn، صدای اختصاص داده شده به آن شنیده می‌شود.

۷. بر روی یک عنصر افکت Flip را جهت ظاهر شدن آن قرار داده‌ایم. انتخاب یک رنگ از منوی باز شونده After animation در تصویر زیر باعث انجام چه عملی خواهد شد؟



- (۱) با انتخاب رنگ از قسمت نشان داده شده، رنگ عنصر مورد نظر بلافاصله تغییر خواهد کرد.
- (۲) پس از اجرای افکت Flip، رنگ عنصر مورد نظر تغییر می‌کند.
- (۳) اگر عنصر در یک Place Holder قرار داشته باشد، رنگ متن و پس‌زمینه‌ی Placeholder بلافاصله به رنگ انتخاب شده تغییر خواهد کرد.
- (۴) هیچکدام

۱. با استفاده از کدام یک از قسمت‌های شماره‌گذاری شده در شکل مقابل می‌توان



Placeholder را در اسلاید چرخاند؟

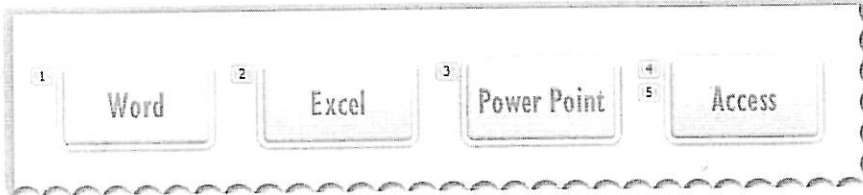
۱ (۱)

۲ (۲)

۳ (۳)

۴ (۴) گزینه ۲ و ۳ صحیح است.

۲. شکل Access دارای دو افکت است که



اولی باعث ظاهر شدن و دومی باعث خارج

شدن شکل می‌شود. برای ظاهر شدن شکل

Access چند کلیک نیاز است؟


۱ (۱) دو کلیک

۲ (۲) سه کلیک

۳ (۳) چهار کلیک

۴ (۴) پنج کلیک

۳. تصویر مقابل Animation Pane مربوط به اسلایدی را نشان می‌دهد که در آن



چهار شکل وجود دارد و بر روی شکل‌ها عبارات A, B, C و D نوشته شده است.

اجرای افکت مربوط به کدام شکل نیازی به کلیک ندارد؟

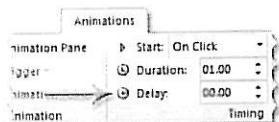
B (۲)

A (۱)

D (۴)

C (۳)

۴. مطابق شکل مقابل مقدار Delay برای یک افکت عدد ۰ تعیین شده است. در صورتی که



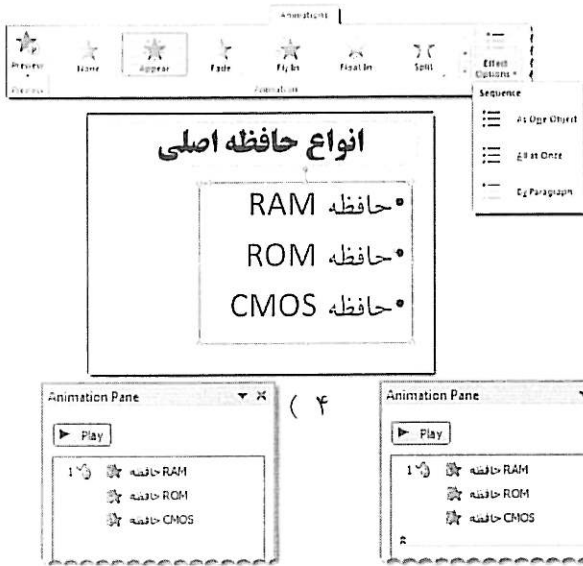
این عدد را به ۲ تغییر دهیم، چه تغییری در اجرای افکت رخ خواهد داد؟

۲ (۲) اجرای افکت بجای یک ثانیه، دو ثانیه طول می‌کشد.

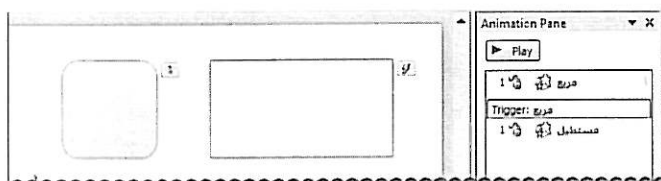
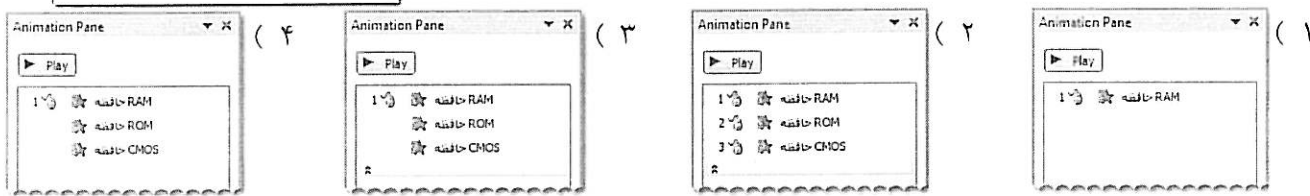
۱ (۱) افکت بجای یک مرتبه، دو مرتبه اجرا می‌شود.

۴ (۴) تمام موارد فوق صحیح است.

۳ (۳) افکت با دو ثانیه تأخیر اجرا می‌شود.



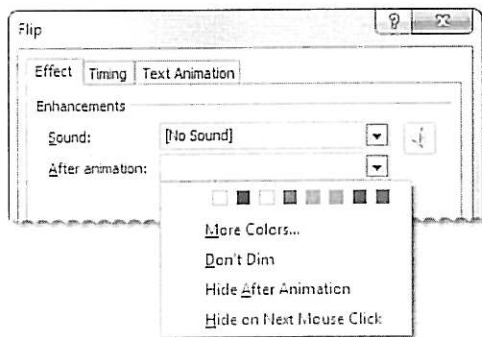
۵. در یک اسلاید یک Body Placeholder حاوی سه پاراگراف قرار دارد. بر روی این Placeholder، یک افکت برای ظاهر شدن آن قرار داده و گزینهی All at Once را برای آن از Effect Optioe انتخاب نموده‌ایم. پس از انجام این عملیات، Animation Pane به چه صورتی مشاهده خواهد شد؟



۶. بر روی عناصر موجود در شکل مقابل، یک نوع افکت یکسان قرار داده شده است. کدام یک از گزینه‌های زیر در رابطه با اجرای افکت هر کدام از این عناصر، صحیح نیست؟

- (۱) با کلیک کردن بر روی شکل مربع، افکت شکل مستطیل، اجرا می‌شود.
- (۲) پس از اجرای اسلاید، با اولین کلیک یا فشار دادن کلید Space، افکت شکل مربع اجرا می‌شود.
- (۳) با کلیک کردن بر روی شکل مستطیل، افکت شکل مربع، اجرا می‌شود.
- (۴) پس از اجرای اسلاید، فشار کلید Space برای دومین بار، باعث انتقال به اسلاید بعدی می‌شود.

۷. بر روی یک عنصر افکت Flip را جهت ظاهر شدن آن قرار داده‌ایم. انتخاب یک رنگ از منوی باز شونده After animation در تصویر زیر باعث انجام چه عملی خواهد شد؟



- (۱) با انتخاب رنگ از قسمت نشان داده شده، رنگ عنصر مورد نظر بلافاصله تغییر خواهد کرد.
- (۲) پس از اجرای افکت Flip، رنگ عنصر مورد نظر تغییر می‌کند.
- (۳) اگر عنصر در یک Place Holder قرار داشته باشد، رنگ متن و پس‌زمینه‌ی Placeholder بلافاصله به رنگ انتخاب شده تغییر خواهد کرد.
- (۴) هیچ‌کدام

نام و نام خانوادگی:

شماره لیست:

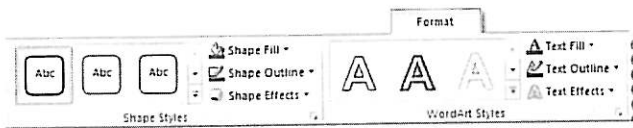
کلاس: هتمم یکم گروه اول

برستان
دیرستان تلف

دوره اول

ریاضه

تاریخ: ۱۳۹۶/۰۲/۲۶




Text Fill (۴

Shape Effects (۳

Shape Outline (۲

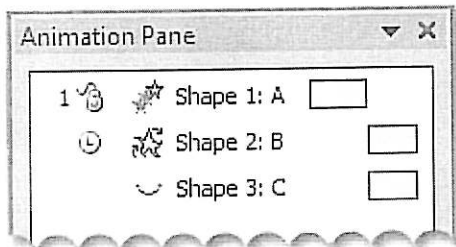
Shape Fill (۱

۱. با استفاده از کدام یک از گزینه‌های موجود در برگه Format می‌توان برای Placeholder یک سایه قرار داد؟



۲. در یک اسلاید، یک عنصر مطابق شکل وجود دارد که بر روی آن یک افکت قرار داده‌ایم. با توجه به شکل نحوه شروع اجرای این افکت کدام یک از حالات زیر است؟

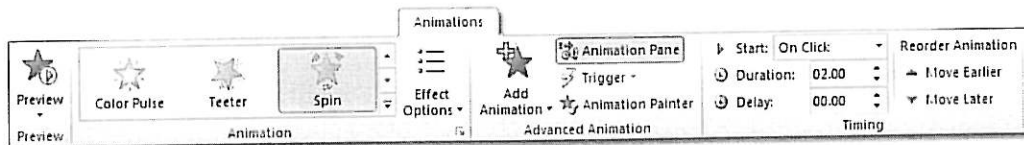
- (۱) این افکت برای اجرا شدن نیاز به کلیک کردن ندارد و به صورت خودکار با اجرا شدن اسلاید به اجرا در خواهد آمد.
- (۲) با توجه به شماره افکت این عنصر می‌توان نتیجه گرفت که این افکت هرگز اجرا نمی‌شود.
- (۳) پس از اجرا شدن اسلاید با اولین کلیک، این افکت اجرا می‌شود.
- (۴) افکت این عنصر به کلیک کردن بر روی یک عنصر دیگر وابسته شده است.



۳. در یک اسلاید سه شکل وجود دارد که بر روی آنها عبارات A، B و C نوشته شده است. کدام یک از گزینه‌های زیر در رابطه با اجرای افکت شکل‌های B و C صحیح است؟

- (۱) افکت این دو شکل به صورت هم زمان، و با اولین کلیک پس از خاتمه افکت شکل A اجرا می‌شود.
- (۲) افکت این دو شکل به صورت هم زمان، و به صورت خودکار پس از خاتمه افکت مربوط به شکل A اجرا می‌شود.
- (۳) افکت شکل C به صورت خودکار و پس از خاتمه افکت شکل B اجرا خواهد شد.
- (۴) پس از اجرای افکت مربوط به شکل B با اولین کلیک، افکت مربوط به شکل C اجرا می‌شود.

۴. برای یک عنصر افکتی جهت چرخش آن قرار داده‌ایم. از طریق کدام یک از قسمت‌های موجود در برگه Animations می‌توان میزان چرخش و یا جهت چرخش را تغییر داد؟




Duration (۴

Trigger (۳

Add Animation (۲

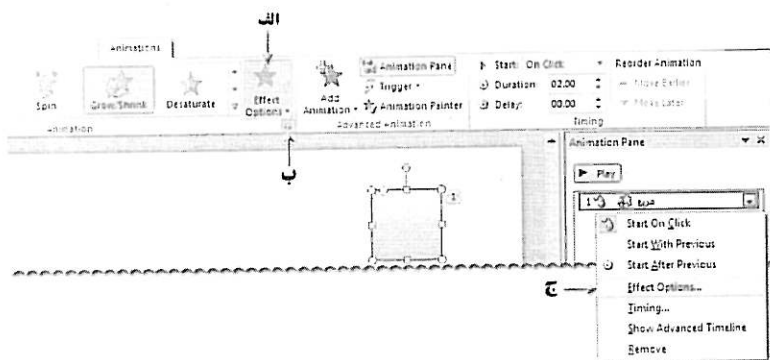
Effect Options (۱



۵. در یک اسلاید یک Body Placeholder حاوی سه پاراگراف قرار دارد. بر روی این Placeholder، یک افکت برای ظاهر شدن آن قرار داده‌ایم. در صورتی که مطابق شکل، یکی از افکت‌ها را تغییر بدهیم، کدام یک از گزینه‌های زیر، اتفاق خواهد افتاد؟

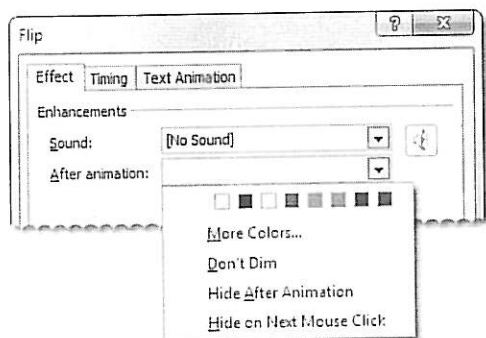
- ۱) تنها افکت انتخاب شده، تغییر می‌کند.
 ۲) همه افکت‌ها تغییر می‌کنند.
 ۳) هیچ کدام از افکت‌ها تغییر نمی‌کنند.
 ۴) افکت اول و دوم تغییر می‌کنند.

۶. از طریق کدام یک از گزینه‌های نشان داده شده در شکل می‌توان به یک افکت صدا اختصاص داد؟



- ۱) با استفاده از گزینه‌های موجود در دستور Animation در گروه Effect Options
 ۲) با انتخاب DialogBoxLauncher موجود در گروه Animation
 ۳) با انتخاب گزینه Effect Option از منوی باز شده در Animation Pane
 ۴) گزینه‌ی ۲ و ۳ صحیح است.

۷. بر روی یک عنصر افکت Flip را جهت ظاهر شدن آن قرار داده‌ایم. انتخاب یک رنگ از منوی باز شونده After animation در تصویر زیر باعث انجام چه عملی خواهد شد؟



- ۱) با انتخاب رنگ از قسمت نشان داده شده، رنگ عنصر مورد نظر بلافاصله تغییر خواهد کرد.
 ۲) پس از اجرای افکت Flip، رنگ عنصر مورد نظر تغییر می‌کند.
 ۳) اگر عنصر در یک Place Holder قرار داشته باشد، رنگ متن و پس‌زمینه‌ی Placeholder بلافاصله به رنگ انتخاب شده تغییر خواهد کرد.
 ۴) هیچ‌کدام